

喜楽研の 算数補助プリント ~1年~

2020年度から、新学習指導要領による学習が本格実施されます。

今回の新学習指導要領では、「主体的・対話的で深い学び」が大きな観点となっています。「思考力」「表現力」「判断力」も問題を解く中で培う必要があります。

そこで、本書でも、基本的な知識理解を生かして、子どもたちが一歩深く考え、また楽しく取り組めるような問題を中心に掲載してみました。子どもたちが様々な方法で「答え」を見つけ出し、多様な考えが育まれることを望みます。

10までの かず

① □にはいる かずを かきましょう。



② たて、よこ、ななめに 10を みつけて、せんで かこみましょう。かこめない かずを □に かきましょう。

| | | | |
|---|---|---|---|
| 9 | 4 | 6 | 8 |
| 2 | 1 | 7 | 2 |
| 5 | 3 | 9 | 1 |
| 2 | 5 | 4 | 6 |

な
ま
ま
え

たしざん (1)

③ おもてに しき, うらに こたえを かいた カードを ならべました。

| | |
|-------|----|
| おもて | うら |
| 3 + 4 | 7 |

④, ⑤, ⑥の おもては それぞれ どんな しきになるでしょうか。□に しきを かきましょう。(0の たしざんは のぞきます。)

| | | | |
|-------|-------|-------|-------|
| 9 + 1 | 8 + 1 | 7 + 1 | 6 + 1 |
| 8 + 2 | ④ 9 | 6 + 2 | 5 + 2 |
| 7 + 3 | 6 + 3 | 5 + 3 | ⑤ 7 |
| 6 + 4 | 5 + 4 | 4 + 4 | 3 + 4 |
| 5 + 5 | 4 + 5 | ⑥ 8 | 2 + 5 |
| 4 + 6 | 3 + 6 | 2 + 6 | 1 + 6 |

④ ⑤ ⑥

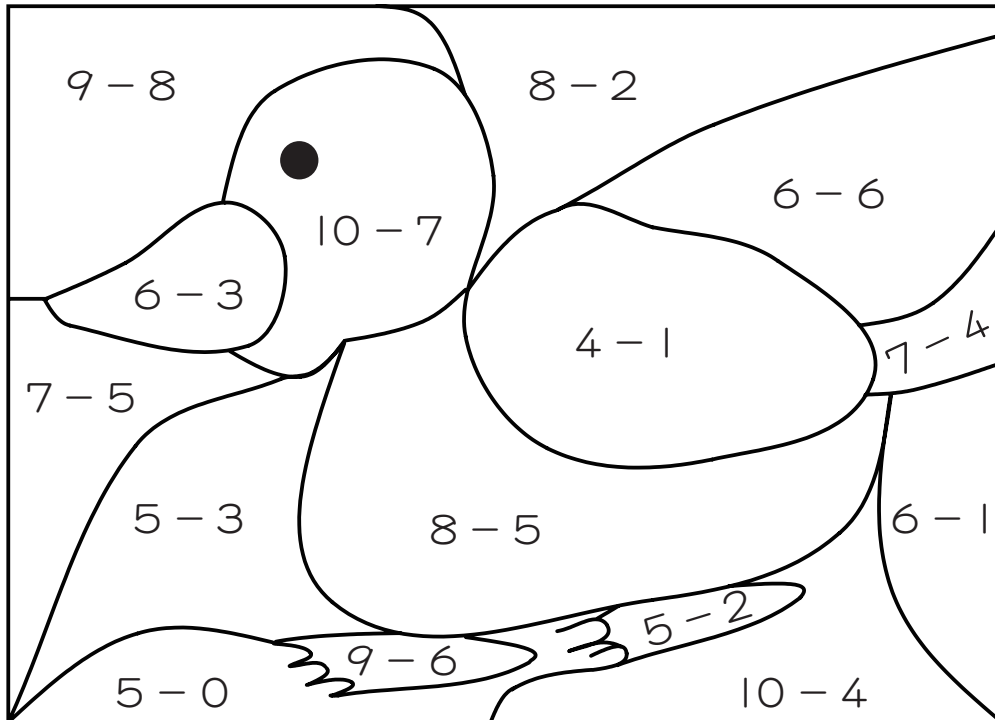
もんだいの こたえを かいた あと, なぜ そうかんがえたのか, おともだちや, おうちの ひとに せつめいしましょう。

ひきざん (1)

- ④ ① 10までのひきざんで、こたえが8になるひきざんのしきを3つかきましょう。

- ② 10までのひきざんで、こたえが7になるしきはいくつあるでしょうか。

- ⑤ こたえが3になるところにいろをぬりましょう。



な
ま
え

10より おおきい かず

- ⑥ かくれている どうぶつは なんでしょう。けいさんを したこたえの かずに あてはまる ひらがなを したの ひょうから みつけ、どうぶつの なまえを かきましょう。

① $10+4=$ $10+9=$ $19-9=$

こたえ


② $11+1=$ $14+3=$ $13+5=$

こたえ

③ $17-1=$ $19-4=$ $18-7=$

$15-2=$

こたえ

| | |
|----|---|
| 10 | ぎ |
| 11 | く |
| 12 | ね  |
| 13 | ま |
| 14 | う |
| 15 | ろ |
| 16 | し |
| 17 | ず |
| 18 | み  |
| 19 | さ |

もんだいの こたえを かいた あと、なぜ そうかんがえたのか、おともだちや、おうちの 人に せつめいしましょう。

10より おおきい かず

- 7 1から 20までの かずを ばらばらに ひょうに
いれました。★で かかれて いる 2つの かずを
かきましょう。

| | | | |
|----|----|----|----|
| 10 | 19 | 4 | 6 |
| 3 | 14 | ★ | 16 |
| ★ | 1 | 11 | 8 |
| 7 | 13 | 15 | 20 |
| 18 | 9 | 5 | 2 |

と

な
ま
え

たしざん (2)

- 8 に 2, 4, 6, 8の どの かずを いれると,
こたえが 10より おおきく なるでしょうか。
に かずを かきましょう。

3 +

- 9 こたえが 16に なる カードは どれでしょう。
ぜんぶに ○を つけましょう。

| | | | |
|-------|-------|-------|-------|
| 9 + 6 | 8 + 6 | 7 + 6 | 6 + 6 |
| 9 + 7 | 8 + 7 | 7 + 7 | 6 + 7 |
| 9 + 8 | 8 + 8 | 7 + 8 | 6 + 8 |
| 9 + 9 | 8 + 9 | 7 + 9 | 6 + 9 |

もんだいの こたえを かいた あと, なぜ そうかんがえたのか, おともだちや,
おうちの ひとに せつめいしましょう。

ひきざん (2)

10 ひきざんの こたえの ちいさい じゅんに
ならべましょう。こたえの ひらがなを かきましよう。

| | | | |
|-------------|-------------|-------------|-------------|
| 14 - 6 く | 15 - 9 う | 12 - 8 ご | 11 - 4 か |
|-------------|-------------|-------------|-------------|

こたえ

11 つぎの ひきざんの なかで、こたえが 10より
ちいさく なるのは どれでしょう。

に ばんごうを かきましよう。

- ① 16 - 3 ② 16 - 5 ③ 16 - 7

12 こたえの おおきいほうに ○を つけましよう。

① (16 - 8 16 - 9)

② (13 - 7 15 - 7)

な
ま
え

3つの かずの けいさん

13 たしざんの こたえは 10です。□の かずは
いくつでしょう。□に はいる かずを かきましよう。

① 1 + 2 + = 10

② 6 + + 4 = 10

③ + 2 + 7 = 10

ずを つかって かんがえよう

14 こどもが いちれつに ならんで います。ゆりさんは、
まえから 5にんめで、うしろから 3にんめです。

こどもは ぜんぶで なんにん ならんでいるでしょう。

に ばんごうを かきましよう。

- ① 6にん ② 7にん ③ 8にん ④ 9にん

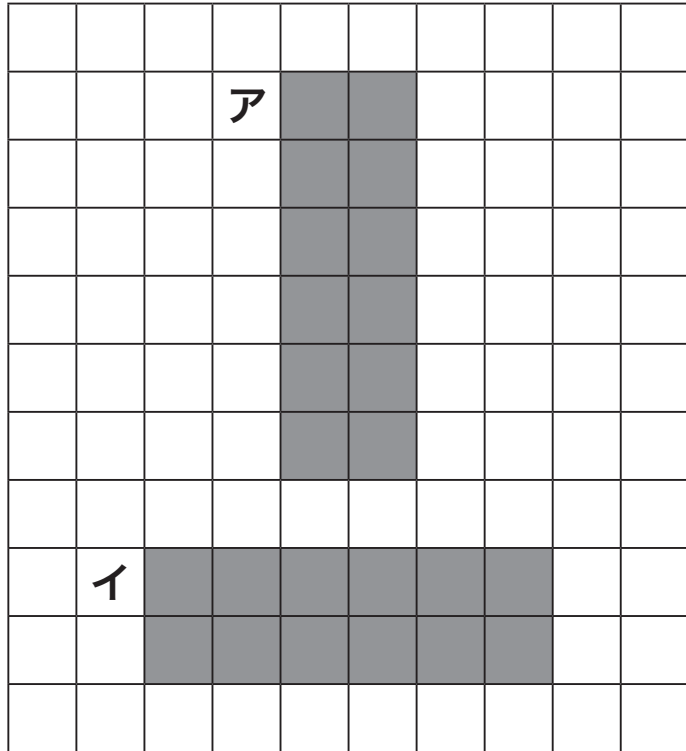


ずに あらわすと……
○○○○●○○

もんだいの こたえを かいた あと、なぜ そうかんがえたのか、おともだちや、
おうちの ^{ひと}に せつめいしましよう。

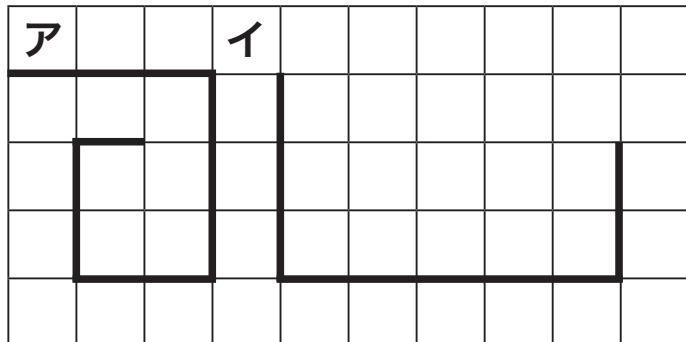
おおきさくらべ

15 アと イでは、どちらが ひろいでしょうか。
□に ばんごうを かきましょう。



- ① アが ひろい
- ② イが ひろい
- ③ おなじ

16 アと イでは、どちらが ながいでしょうか。
□に ばんごうを かきましょう。



- ① アが ながい
- ② イが ながい
- ③ おなじ

な
ま
え

20より おおきい かず

17 0から 100までの カードを ならべています。
① 55と ② 73の カードは それぞれ ア, イ, ウ,
エの どこに ならべたら いいでしょうか。

| | | | | | | | | | |
|-----|----|----|----|----|----|----|----|----|----|
| 0 | 1 | 2 | 3 | 4 | 5 | 6 | 7 | 8 | 9 |
| 10 | 11 | 12 | 13 | 14 | 15 | 16 | 17 | 18 | 19 |
| 20 | 21 | 22 | 23 | 24 | 25 | | | | |
| 30 | 31 | 32 | 33 | | | | ア | | |
| | | | | | | | | | |
| | | | | | | | イ | | |
| 60 | | | | | | | | | |
| | | | ウ | | | | | | |
| | | | | | | | | | |
| 90 | エ | | | | | | | | |
| 100 | | | | | | | | | |

① 55

② 73

もんだいの こたえを かいた あと、なぜ そうかんがえたのか、おともだちや、
おうちの 人に せつめいしましょう。

20より おおきい かず

18 さいふに 30えん もって いました。おばあちゃんから 40えん もらったので、ぜんぶの おかねで おやつを 2つ かいました。なにと なにを かったでしょう。

□に ばんごうを かきましょう。

- ① あめ 20えん ② ガム 30えん
- ③ グミ 50えん ④ スナック 60えん

□ と □


とけい (2)

19 けいとさんは、でんしゃに まにあうでしょう。とけいを みて こたえましょう。

でんしゃの しゅっぱつする じこく



けいとさんが えきに ついた じこく



こたえ

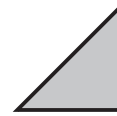
□

なまえ

□


かたち

20

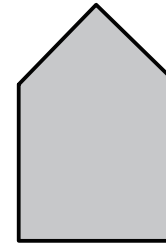


の いろいろした 4まいを ならべて できる かたちは どれでしょう。□に ばんごうを かきましょう。

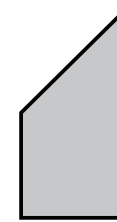
①




②



③



④



□

もんだいの こたえを かいた あと、なぜ そうかんがえたのか、おともだちや、おうちの ひとに せつめいしましょう。